 (1) てんをつないで、ずけいをかいてみよう

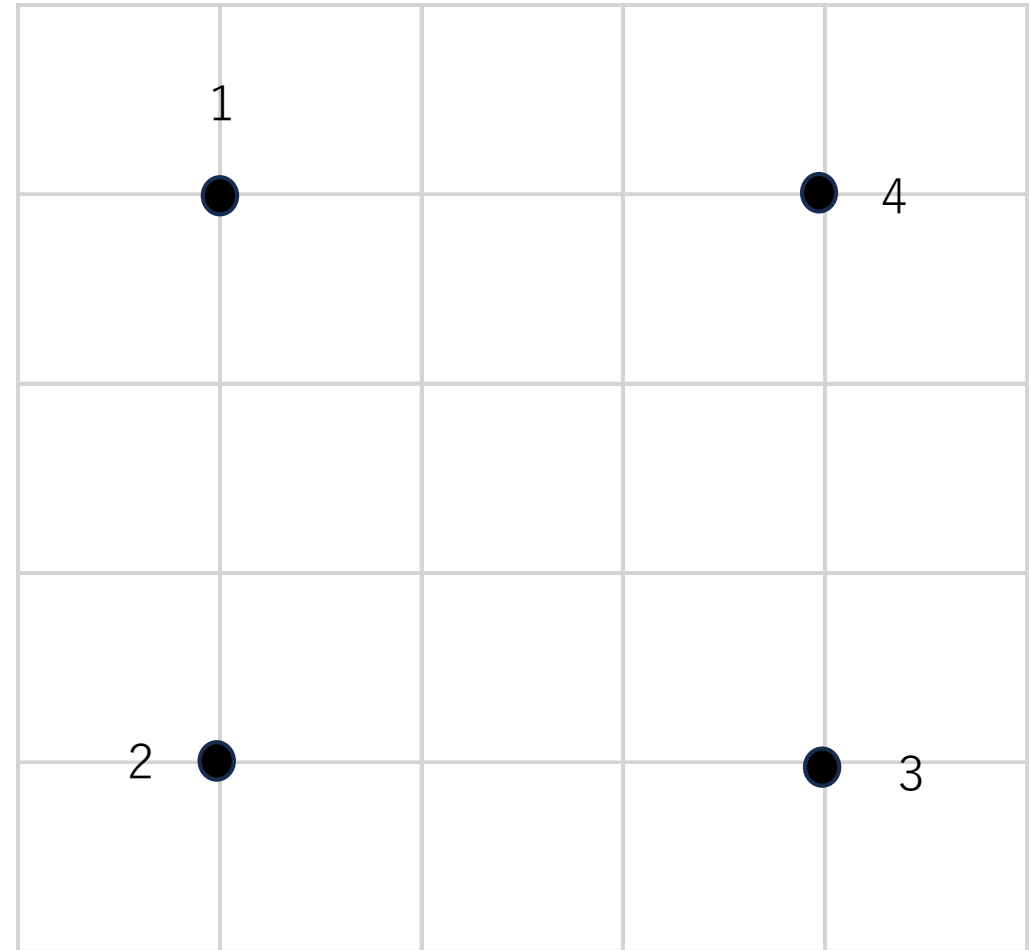
1. ほうがんしにある “.” をつなげよう。
2. すうじを、「つなげかた」のじゅんばんにつなげよう。
3. せんは、じょうぎをつかってまっすぐかこう。


つなげかた

① 1 ⇒ 2 ⇒ 3 ⇒ 4 ⇒ 1

② 1 ⇒ 3

答えはこちら



 (2) したのかたちは、それぞれ なんこずつ あるかな？


さんかく

こ

ましかく

こ



 (1) てんをつないで、ずけいをかいてみよう

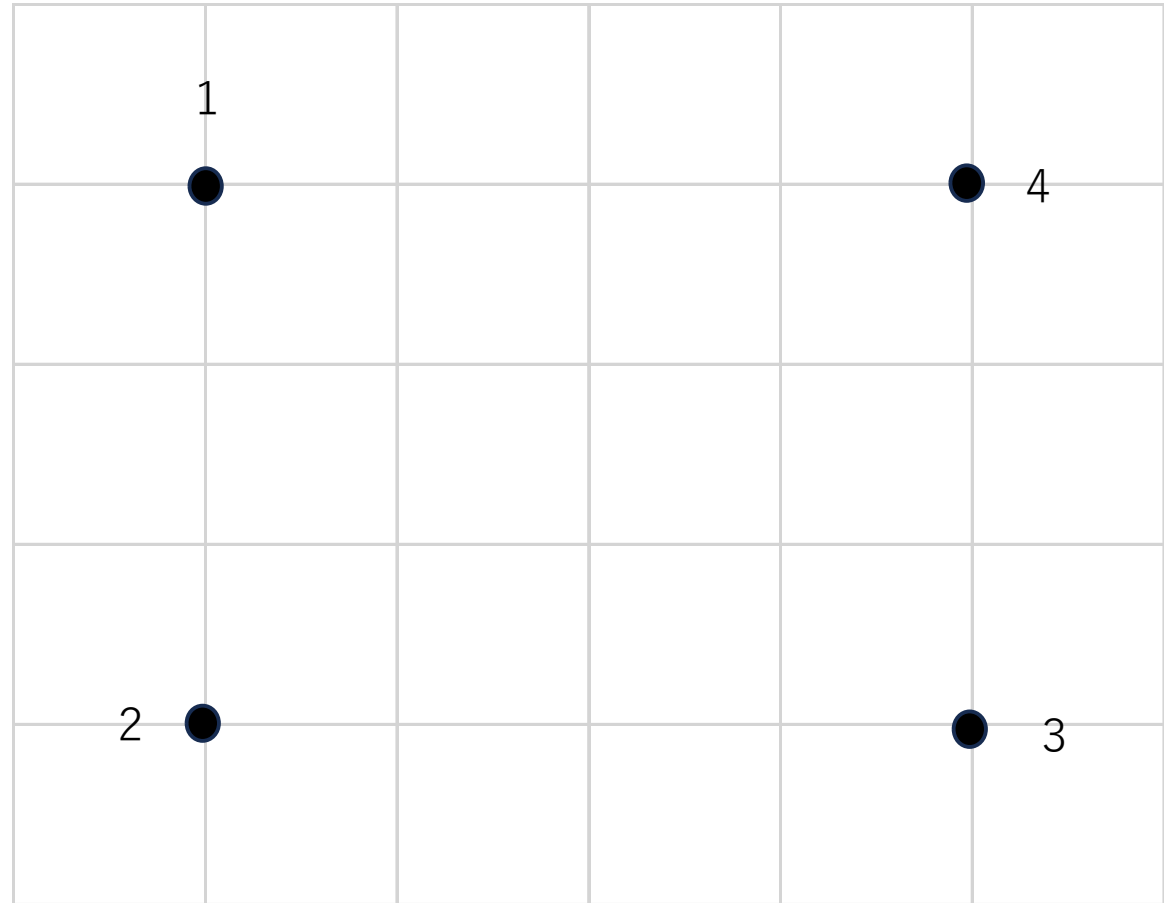
1. ほうがんしにある “.” をつなげよう。
2. すうじを、「つなげかた」のじゅんばんにつなげよう。
3. せんは、じょうぎをつかってまっすぐかこう。


つなげかた

① 1 ⇒ 2 ⇒ 3 ⇒ 4 ⇒ 1

② 1 ⇒ 3

答えはこちら



 (2) したのかたちは、それぞれ なんこずつ あるかな？


さんかく

こ

ながしかく

こ



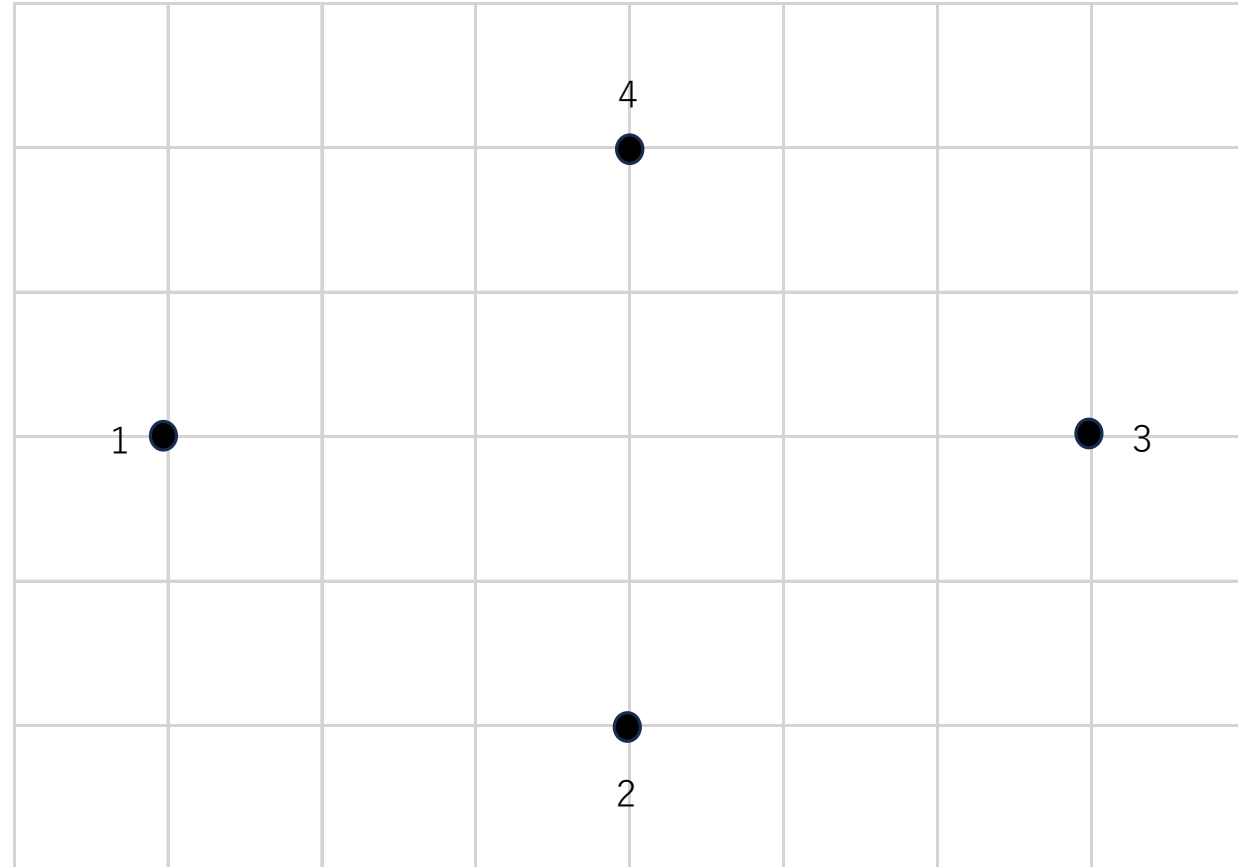
 (1) てんをつないで、ずけいをかいてみよう

1. ほうがんしにある “.” をつなげよう。
2. すうじを、「つなげかた」のじゅんばんにつなげよう。
3. せんは、じょうぎをつかってまっすぐかこう。

つなげかた


① 1 ⇒ 2 ⇒ 3 ⇒ 4 ⇒ 1

② 1 ⇒ 3



答えはこちら



 (2) したのかたちは、それぞれ なんこずつ あるかな？


さんかく

こ

ひしがた

こ



 (1) てんをつないで、ずけいをかいてみよう

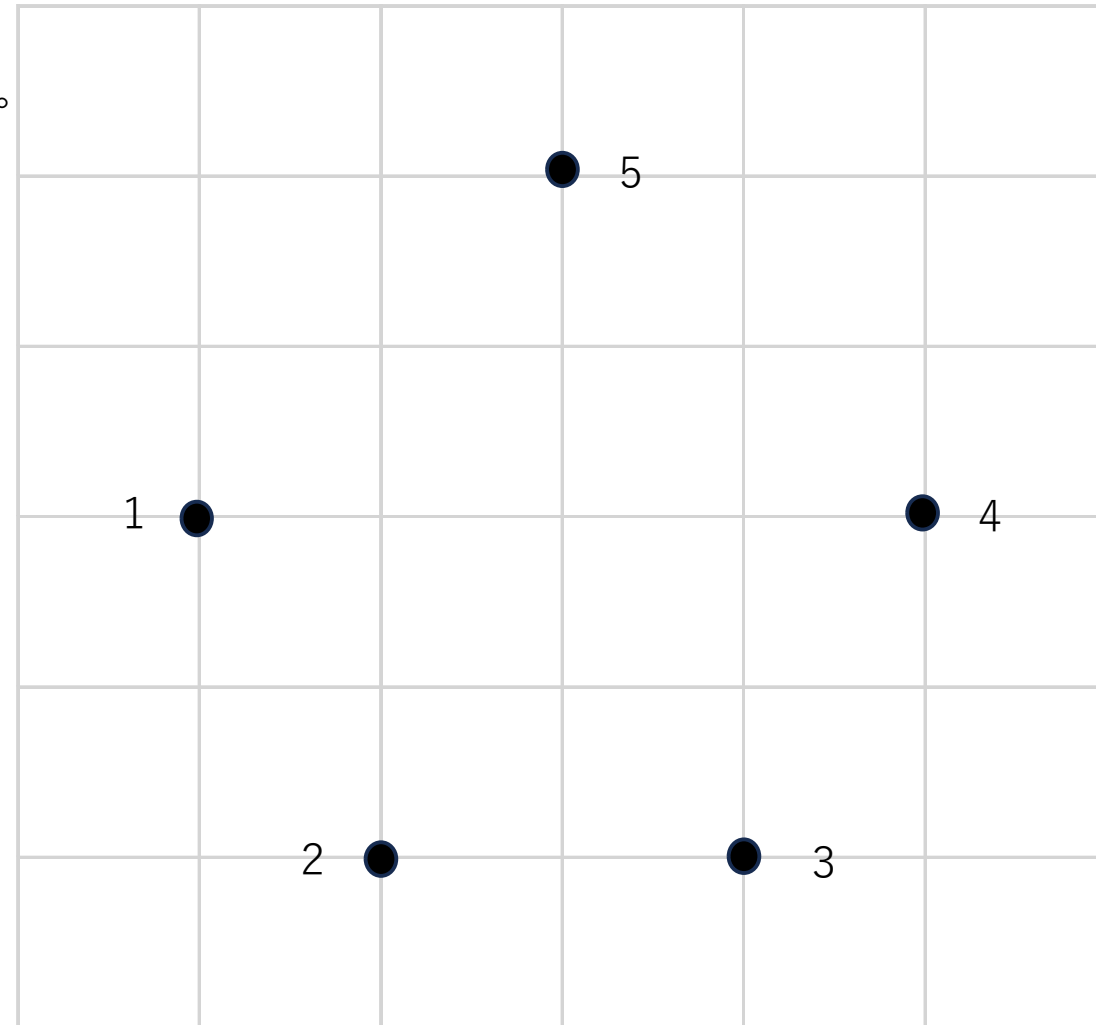
1. ほうがんしにある “.” をつなげよう。
2. すうじを、「つなげかた」のじゅんばんにつなげよう。
3. せんは、じょうぎをつかってまっすぐかこう。


つなげかた

① 1 ⇒ 2 ⇒ 3 ⇒ 4 ⇒ 5 ⇒ 1

② 1 ⇒ 4


答えはこちら



 (2) したのかたちは、それぞれ なんこずつ あるかな？

さんかく こ ごかくけい こ しかく こ



 (1) てんをつないで、ずけいをかいてみよう

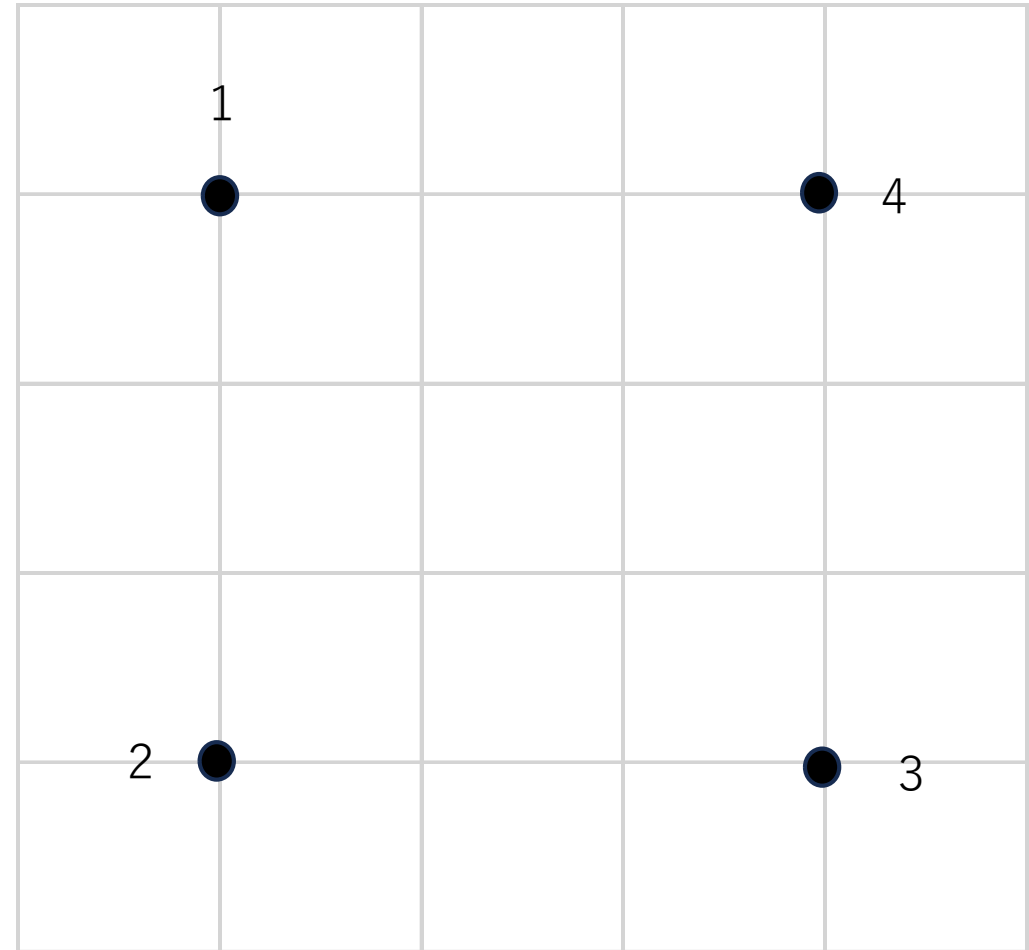
1. ほうがんしにある “.” をつなげよう。
2. すうじを、「つなげかた」のじゅんばんにつなげよう。
3. せんは、じょうぎをつかってまっすぐかこう。


つなげかた

① 1 ⇒ 2 ⇒ 3 ⇒ 4 ⇒ 1

② 1 ⇒ 3 ③ 2 ⇒ 4

答えはこちら



 (2) したのかたちは、それぞれ なんこずつ あるかな？


さんかく

こ

ましかく

こ



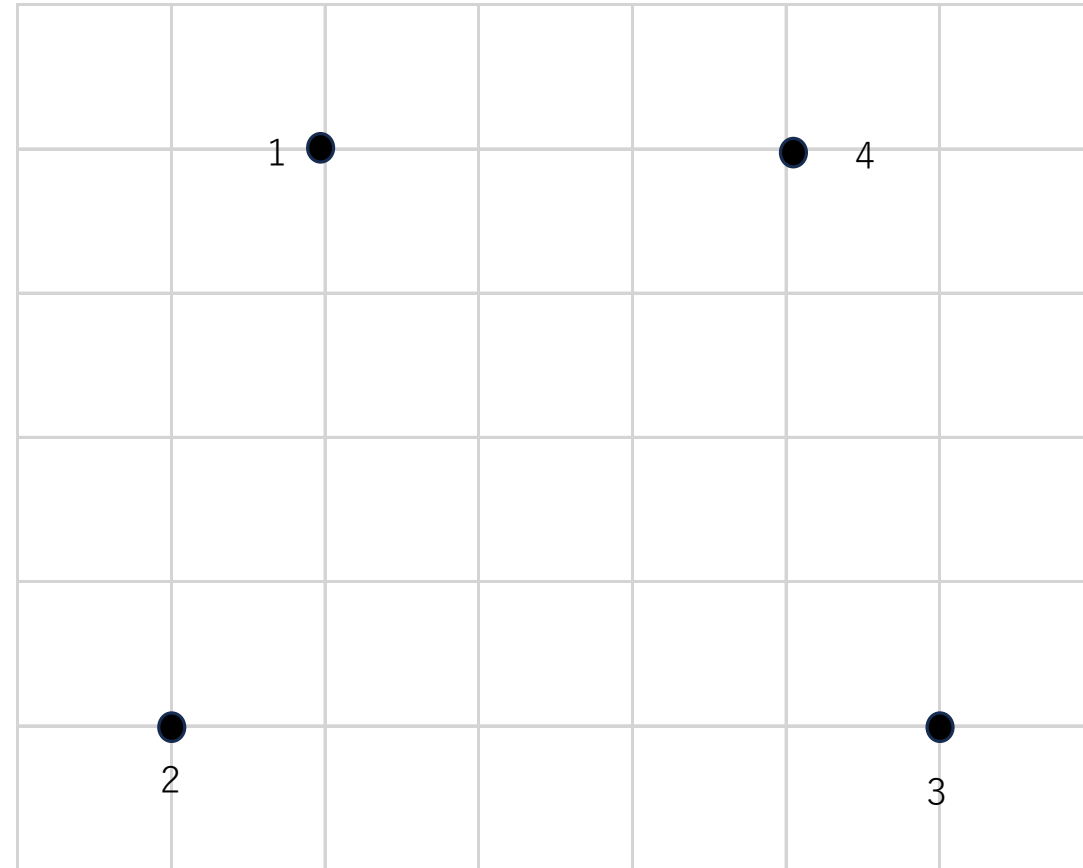
 (1) てんをつないで、ずけいをかいてみよう


1. ほうがんしにある “.” をつなげよう。
2. すうじを、「つなげかた」のじゅんばんにつなげよう。
3. せんは、じょうぎをつかってまっすぐかこう。

つなげかた

1 ⇒ 2 ⇒ 3 ⇒ 4 ⇒ 1 ⇒ 3

答えはこちら



 (2) したのかたちは、それぞれ なんこずつ あるかな？


さんかく

こ

しかく

こ



 (1) てんをつないで、ずけいをかいてみよう

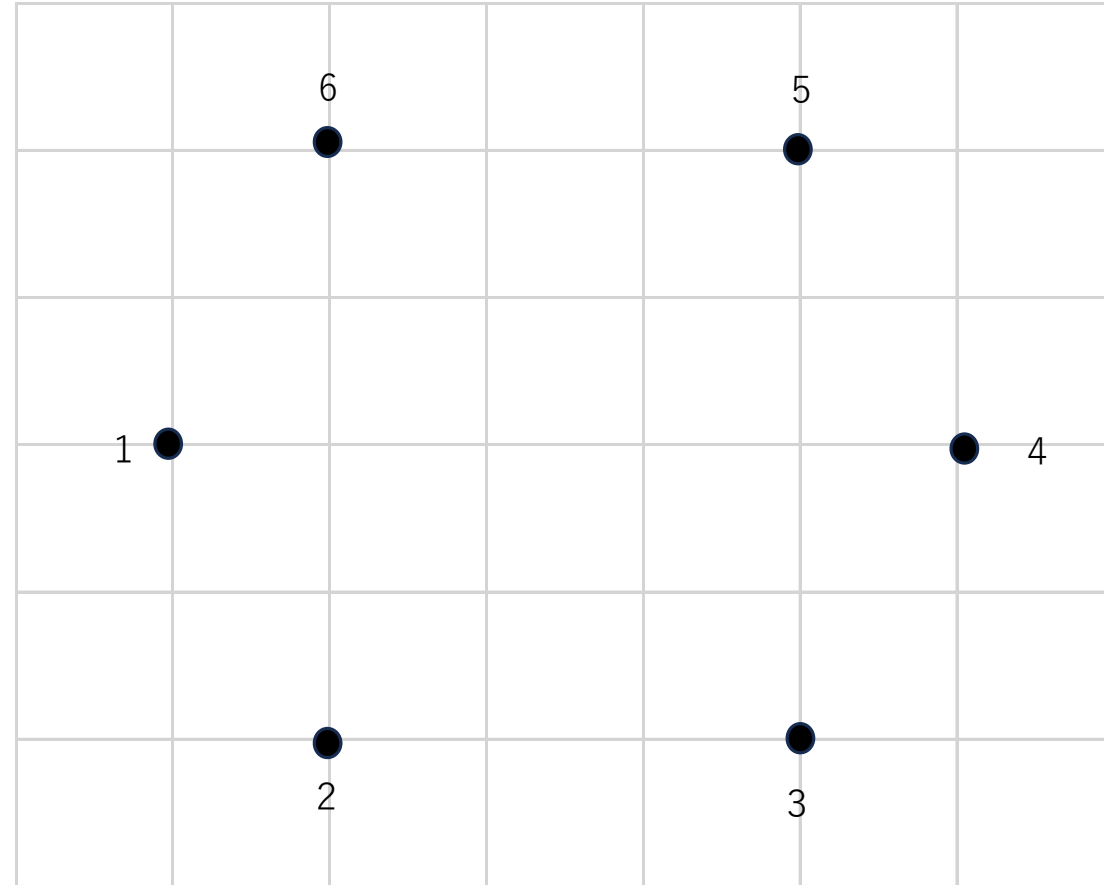
1. ほうがんしにある “.” をつなげよう。
2. すうじを、「つなげかた」のじゅんばんにつなげよう。
3. せんは、じょうぎをつかってまっすぐかこう。


つなげかた

① 1 ⇒ 2 ⇒ 3 ⇒ 4 ⇒ 5 ⇒ 6 ⇒ 1

② 1 ⇒ 4

答えはこちら



 (2) したのかたちは、それぞれ なんこずつ あるかな？


ろっかくけい

こ

しかく

こ



 (1) てんをつないで、ずけいをかいてみよう

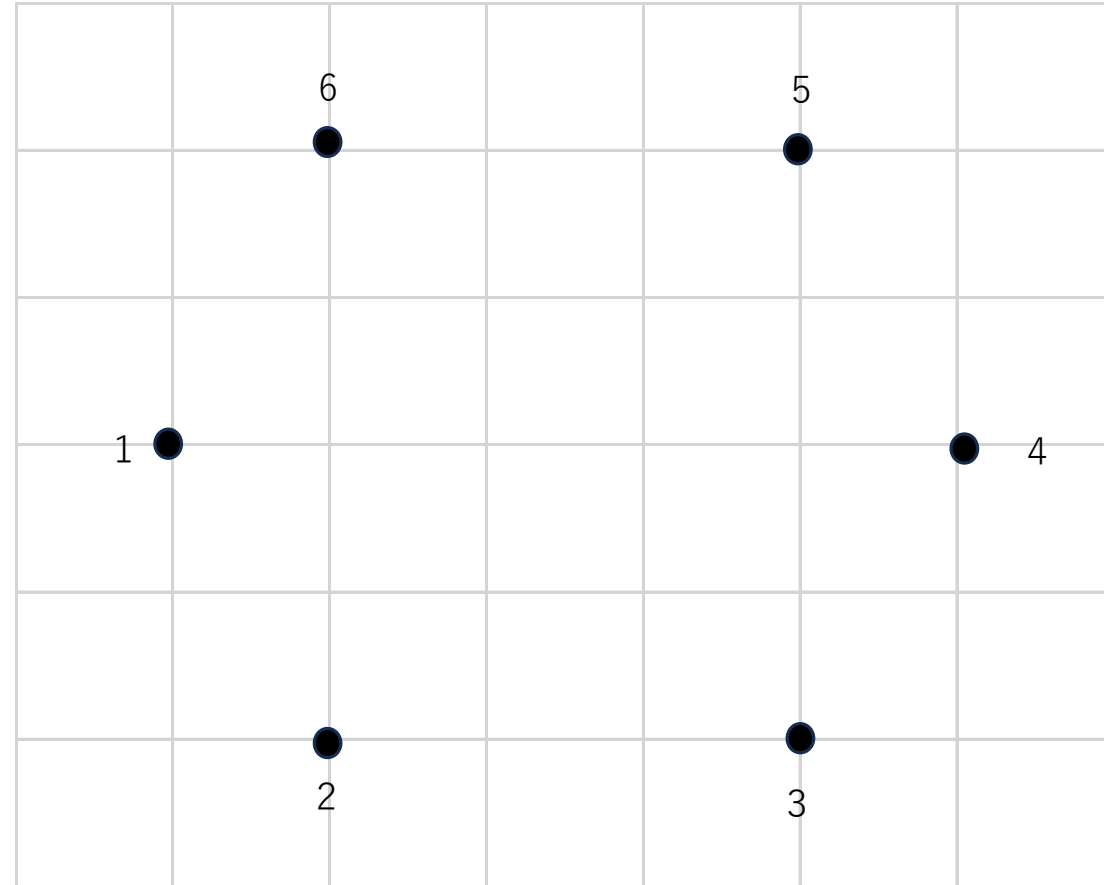
1. ほうがんしにある “.” をつなげよう。
2. すうじを、「つなげかた」のじゅんばんにつなげよう。
3. せんは、じょうぎをつかってまっすぐかこう。


つなげかた

① 1 ⇒ 2 ⇒ 3 ⇒ 4 ⇒ 5 ⇒ 6 ⇒ 1

② 1 ⇒ 3


答えはこちら



 (2) したのかたちは、それぞれ なんこずつ あるかな？

ろっかくけい 二 さんかく 二 ごかくけい 二



 (1) てんをつないで、ずけいをかいてみよう

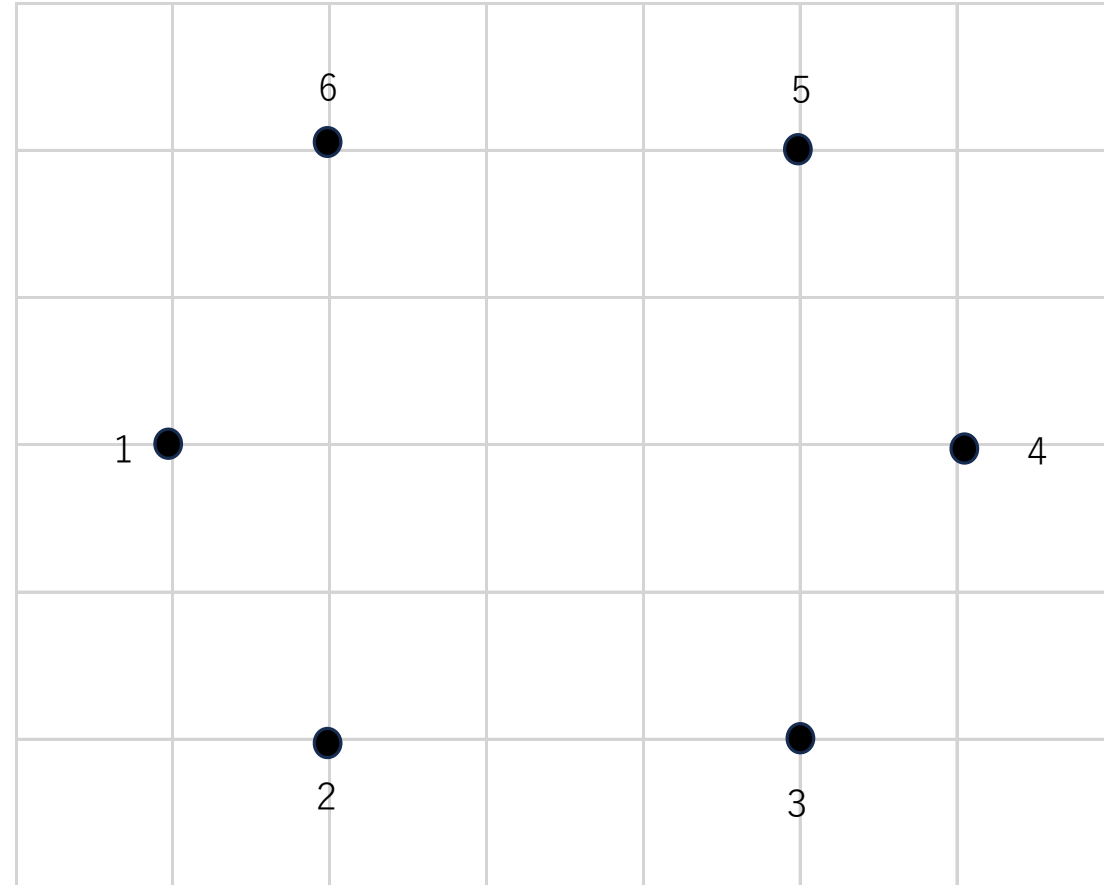
1. ほうがんしにある “.” をつなげよう。
2. すうじを、「つなげかた」のじゅんばんにつなげよう。
3. せんは、じょうぎをつかってまっすぐかこう。


つなげかた

① 1 ⇒ 2 ⇒ 3 ⇒ 4 ⇒ 5 ⇒ 6 ⇒ 1

② 1 ⇒ 3 ③ 5 ⇒ 3


答えはこちら



 (2) したのかたちは、それぞれ なんこずつ あるかな？

ろっかくけい こ さんかく こ しかく こ



 (1) てんをつないで、ずけいをかいてみよう

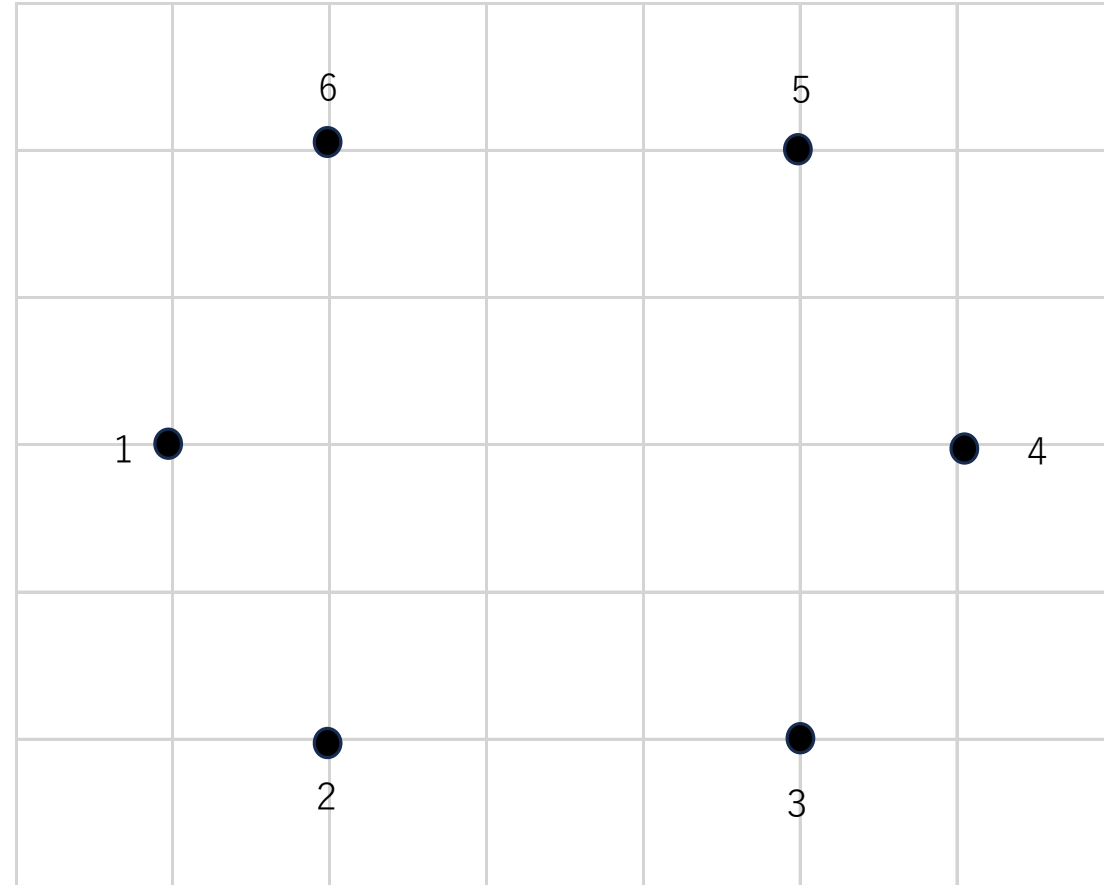
1. ほうがんしにある “.” をつなげよう。
2. すうじを、「つなげかた」のじゅんばんにつなげよう。
3. せんは、じょうぎをつかってまっすぐかこう。


つなげかた

① 1 ⇒ 2 ⇒ 3 ⇒ 4 ⇒ 5 ⇒ 6 ⇒ 1

② 1 ⇒ 3 ③ 6 ⇒ 3


答えはこちら



 (2) したのかたちは、それぞれ なんこずつ あるかな？

ろっかくけい こ ごかくけい こ さんかく こ しかく こ



 (1) てんをつないで、ずけいをかいてみよう

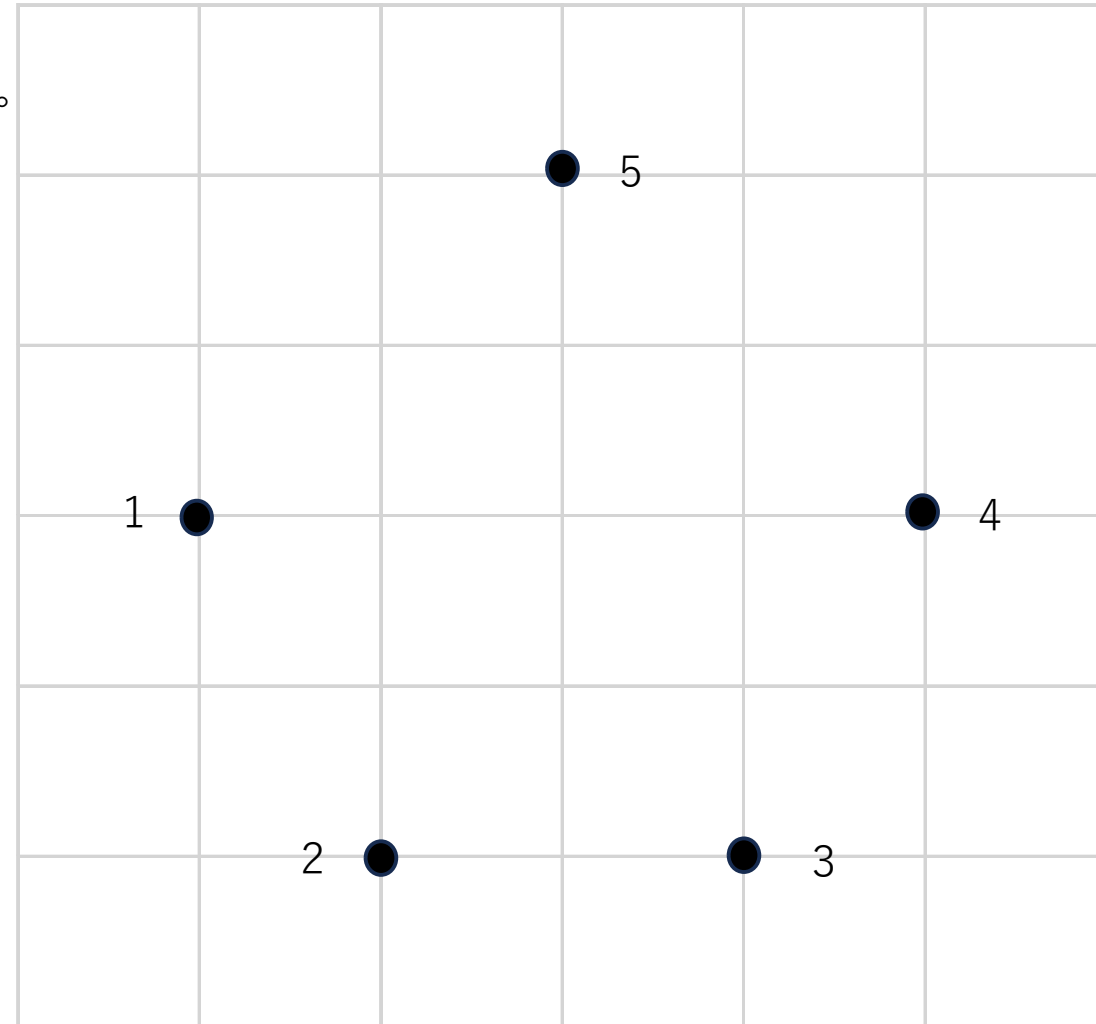
1. ほうがんしにある “.” をつなげよう。
2. すうじを、「つなげかた」のじゅんばんにつなげよう。
3. せんは、じょうぎをつかってまっすぐかこう。


つなげかた

① 1 ⇒ 2 ⇒ 3 ⇒ 4 ⇒ 5 ⇒ 1

② 1 ⇒ 4 ③ 1 ⇒ 3


答えはこちら



 (2) したのかたちは、それぞれ なんこずつ あるかな？

さんかく こ ごかくけい こ しかく こ



 (1) てんをつないで、ずけいをかいてみよう

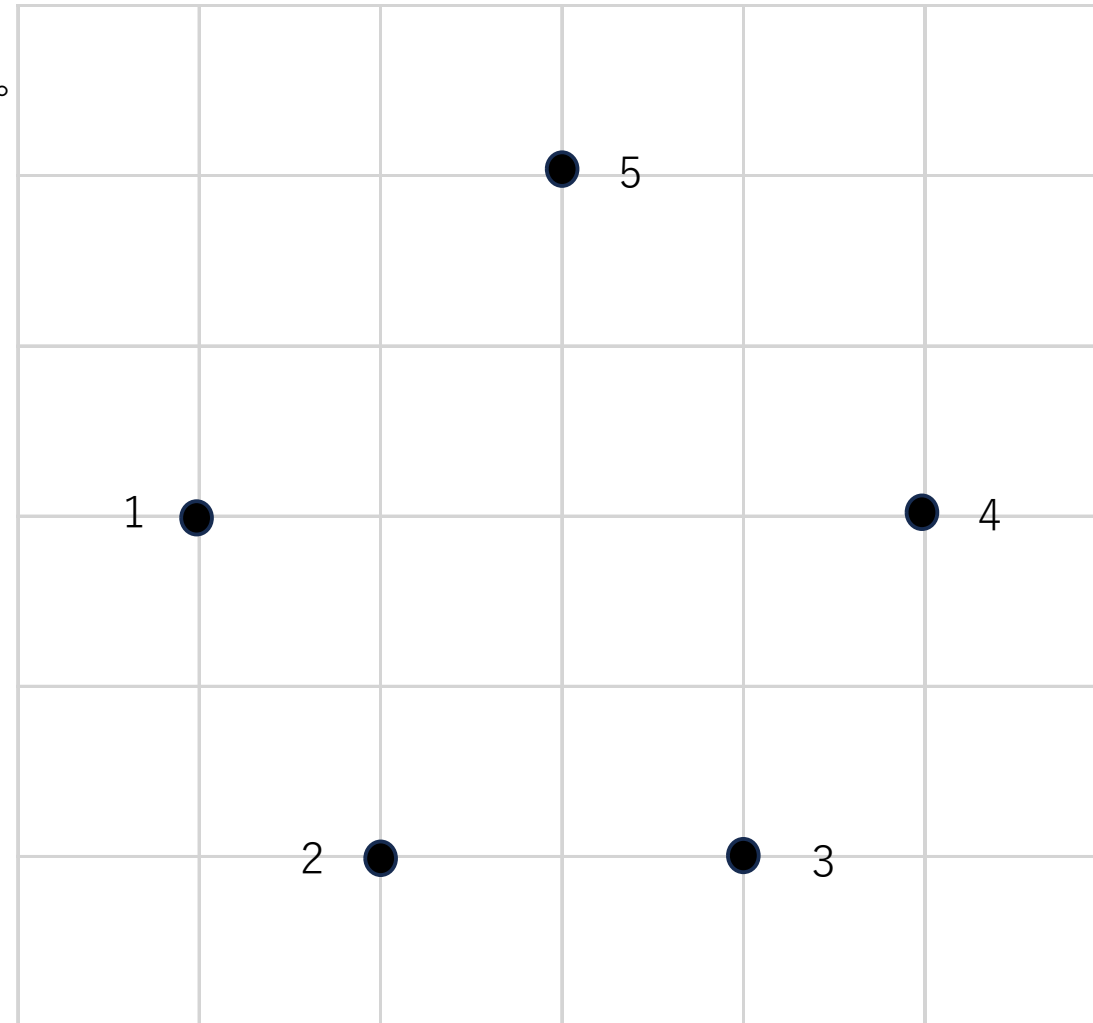
1. ほうがんしにある “.” をつなげよう。
2. すうじを、「つなげかた」のじゅんばんにつなげよう。
3. せんは、じょうぎをつかってまっすぐかこう。


つなげかた

① 1 ⇒ 2 ⇒ 3 ⇒ 4 ⇒ 5 ⇒ 1

② 1 ⇒ 3 ③ 5 ⇒ 2

答えはこちら



 (2) したのかたちは、それぞれ なんこずつ あるかな？

さんかく こ ごかくけい こ しかく こ

