




となりのすうじどうしを たしざんすると こたえが 10 になるくみあわせ を まるでかこもう。

※となりどうしは、うえとした、みぎとひだりだよ。 ななめのくみあわせは、なしでかんがえよう
おなじすうじを、ちがうくみあわせで 2かい つかってもいいよ。


ねい

1	5	4	3	2
2	8	3	7	8
9	6	3	5	5
5	4	1	9	2
3	5	7	4	3

10のくみあわせは  7 こ




5	4	3	9	4
2	5	5	6	4
9	7	8	4	8
5	2	5	7	3
2	9	5	8	9

10のくみあわせは  こ




1	7	5	4	2
9	1	4	8	6
3	5	1	4	2
2	5	2	6	5
6	2	5	3	6

10のくみあわせは  こ



4	2	5	7	3
3	4	5	8	2
1	7	6	8	2
8	3	7	2	1
9	4	8	7	6

10のくみあわせは  こ

答えはこちら

